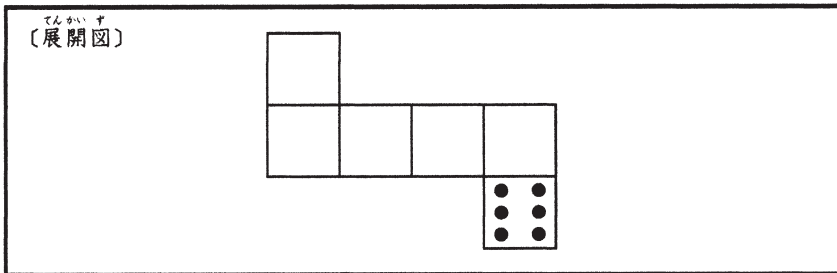


1

〔問題1〕



〔問題2〕

〔式〕

$$\square \circ \square \oplus \square \circ \square = 7$$

〔説明〕

〔問題3〕

〔手前に見える二つの面の目の数の組み合わせ〕	〔合計〕
と	
〔太郎さんが気づいたおもしろいこと〕	

2

〔問題 1〕

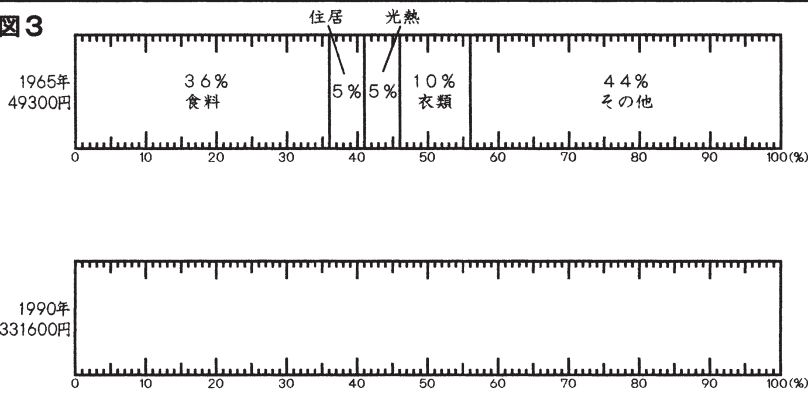
〔問題 2〕

〔選んだ表〕

〔説明〕

〔問題 3〕

図 3



〔説明〕

3

〔問題1〕

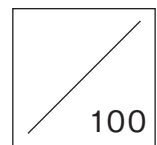
(選んだ観察)	さんの観察
(選んだ花粉)	の花粉
(1cm ² あたりの花粉の数)	個
(説明)	

〔問題2〕

(1) (あ)	
(い)	
(2) (選んだ図の番号)	(グラフの記号)

〔問題3〕

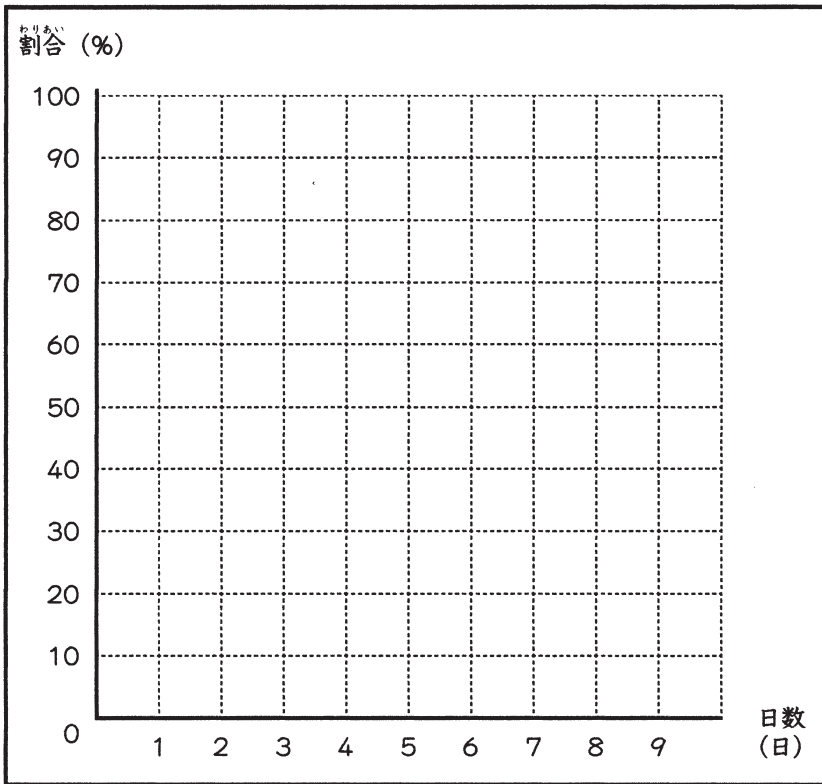
(選んだ図)
(説明)
(選んだ図)
(説明)



1

〔問題1〕

〔問題2〕



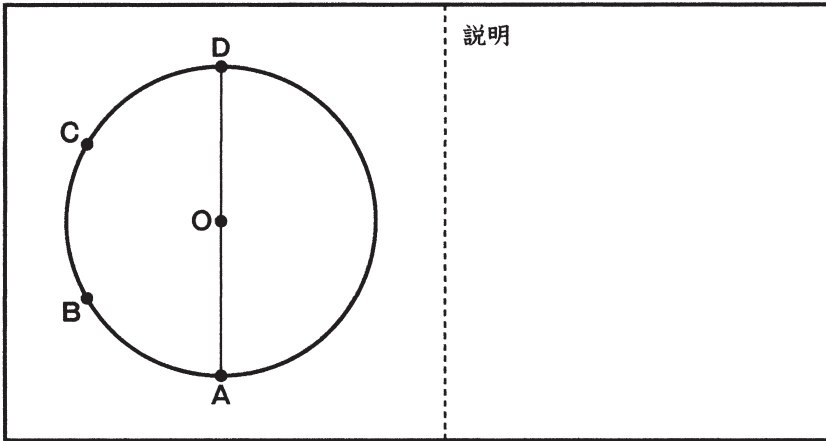
〔問題3〕

2

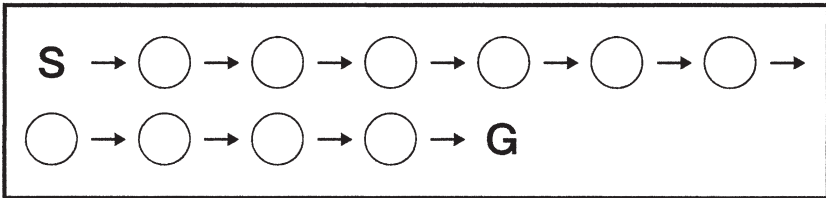
〔問題1〕

記号

〔問題2〕



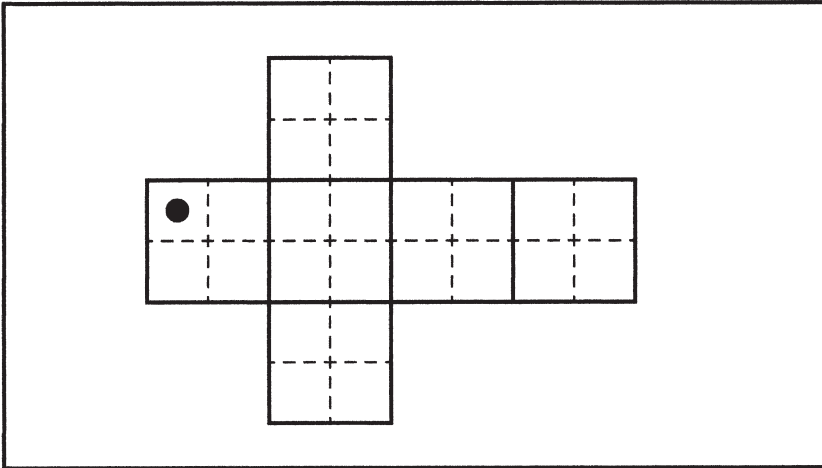
〔問題3〕



〔問題4〕

Blank rectangular box for answer.

(問題5)



(問題6)

