


※この解答用紙は114%に拡大していただくと、実物大になります。

問1

(1) 分

(2) [地図]



問2

(1)

(2) [加える情報]

[Bコートで試合をした選手の組み合わせ]

	かながわテニスクラブ		ヨコハマスポーツクラブ
第1試合	こうたさん まさやさん かずおさん	と	あきらさん たろうさん しんじさん
第2試合	こうたさん まさやさん かずおさん	と	あきらさん たろうさん しんじさん
第3試合	こうたさん まさやさん かずおさん	と	あきらさん たろうさん しんじさん

問3

(1)

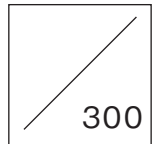
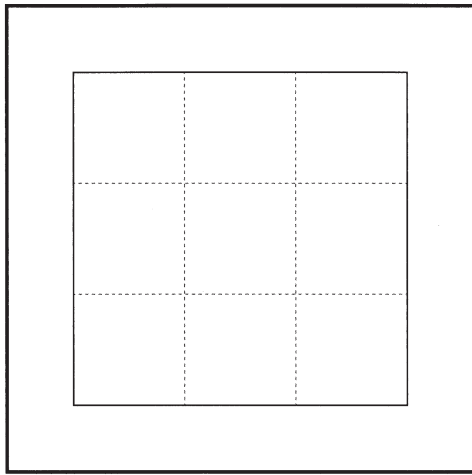
(2)

問4

(1)

1	2	4	5	6	7
8	9	10	11	12	13

(2) [アから見た図]



※この解答用紙は実物大です。

問 1

(1)

--

(2) ※表紙の ― 注 意 ― の5をよく読んで書きましょう。

120

150

問2

(1) cm³

(2)

立体A	鉄	アルミニウム	銅
立体B	鉄	アルミニウム	銅
立体C	鉄	アルミニウム	銅

問3

(1) 秒

(2)

問4

(1)

ア	ウ	エ	オ	カ
---	---	---	---	---

(2)

cm^3

