

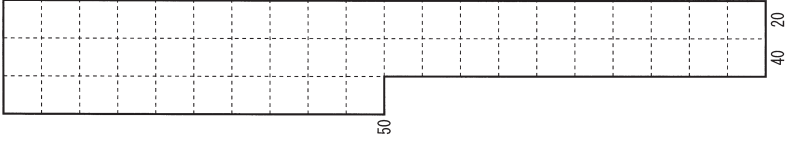
◇適性検査Ⅰ◇

都立両国高等学校附属中学校 平成30年度

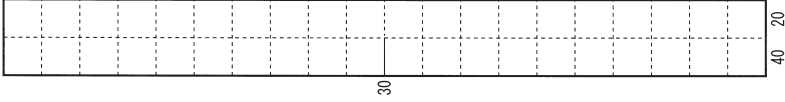
※この解答用紙は178%に拡大していただくと、実物大になります。

1

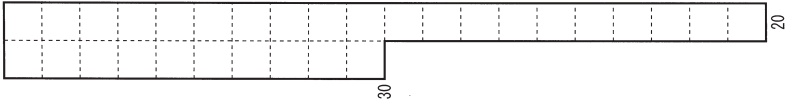
(問題←)



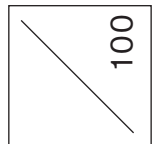

(問題へ)



(問題の)



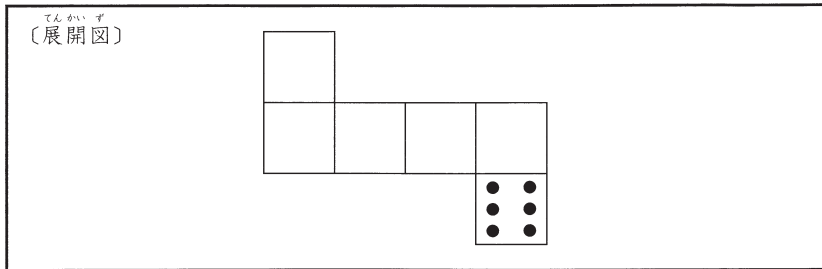
(問題→)



※この解答用紙は135%に拡大していただくと、実物大になります。

1

〔問題1〕



〔問題2〕

〔式〕

$$\square \circ \square \oplus \square \circ \square = 7$$

〔説明〕

〔問題3〕

〔手前に見える二つの面の目の数の組み合わせ〕	〔合計〕
と 〔太郎さんが気づいたおもしろいこと〕	

2

〔問題 1〕

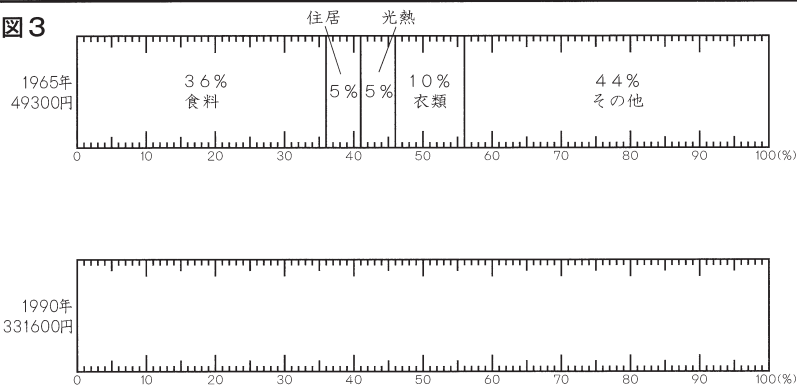
〔問題 2〕

〔選んだ表〕

〔説明〕

〔問題 3〕

図 3



〔説明〕

3

〔問題1〕

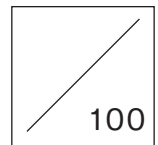
〔選んだ観察〕	さんの観察
〔選んだ花粉〕	の花粉
〔1 cm ² あたりの花粉の数〕	個
〔説明〕	

〔問題2〕

(1) (あ)	
(い)	
(2) 〔選んだ図の番号〕	〔グラフの記号〕

〔問題3〕

〔選んだ図〕
〔説明〕
〔選んだ図〕
〔説明〕



※この解答用紙は135%に拡大していただくと、実物大になります。

1

〔問題1〕

式	
ア に当てはまる数	

〔問題2〕

式	
イ に当てはまる数	

〔問題3〕

2

〔問題1〕

式	
必要な水の量	ℓ

〔問題2〕

調味料名	を、大さじ	量
	と	
調味料名	を、大さじ	量

