

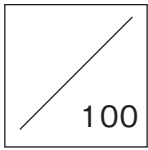
※この解答用紙は116%に拡大していただくと、実物大になります。

1	(1)		(2)		(3)	
	(4)		(5)	$(x, y) = ($,)
	(6)	(cm)	(7)		(8)	(9) (度)

2	(1)		(2)	(ア)	$a =$,	$b =$	(イ)		
	(3)	(ア)	(分間)	(イ)	分速	(m)	(ウ)	(m)		
	(4)	(ア)								(cm)
		(イ)	(証明) $\triangle ABC$ と $\triangle ACD$ について、 $AB : AC = 9 : 6 = 3 : 2 \dots \textcircled{1}$							
			$\triangle ABC \sim \triangle ACD$							(証明終)

3	(1)	(度)	(2)	(ア)	(倍)	(イ)	(cm^2)
	(3)	(ア)		(イ)			(cm^3)

○推定配点○ 1 各5点×9
 2 (1) 5点 (3) 各3点×3 (4)(イ) 6点 他 各4点×3
 3 (1) 5点 (3)(イ) 6点 他 各4点×3
 計100点



※この解答用紙は108%に拡大していただくと、実物大になります。

聞き取り検査

第1問		
第2問		

筆記検査

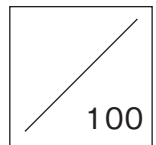
1	(1)	(2)	(3)
---	-----	-----	-----

2	① Do you know ()?
	② ~not easy for () understand
	③ ~ a room ().

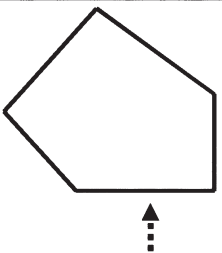

3	(1)		
	(2)	A	B
	(3)	~black girls (
) little white boys and white girls as sisters and brothers.	
	(4)		

4	(1)	b	d
	(2)	① () ?	
	(3)	ア	イ
	(4)	X	Y
	(5)		

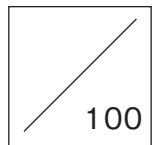
○推定配点○ 聞き取り検査 各3点×4
 筆記検査 1 各3点×3 2 各5点×3
 3 (3) 5点 他 各4点×4
 4 (2) 5点 (5) 14点 他 各4点×6
 計100点



※この解答用紙は124%に拡大していただくと、実物大になります。

1					
2	上の ばね	cm	下の ばね	cm	
3	(1)		(2)	J	
	(3)		(4)	J	
4	(1)				
	(2)				
	(3)	図の 番号	理由		
	(4)		(5)		
5	(1)		(2)		
	(3)		(4)		
6	A	(1)		(2)	
	B	(3)			
		(4)			
		(5)			
7					
8	光の 道すじ			写る 像	

○推定配点○ 1 4点 2 各4点×2 3 各4点×5
 4 各4点×5((4)完答) 5 各4点×4 6 各4点×5
 7 4点 8 各4点×2
 計100点



※この解答用紙は104%に拡大していただくと、実物大になります。

1	(1)	
	(2)	

2	(1)	工場名() かな符号()	
	(2)	
	(3)		

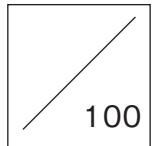
3	(1)	B()市 E()市	
	(2)		(3)
	(4)	(5)
	(6)		(7)

4	(1)		(2)
	(3)		

5	(1)		(2)
	(3)	
	(4)		

6	(1)	
	(2)	(3)

○推定配点○ 1 各10点×2 2 (1) 3点 (2) 10点 (3) 2点
 3 (1) 3点 (4)・(7) 各4点×2 他 各2点×4
 4 各2点×3 5 (1) 2点 (3) 10点 他 各4点×2
 6 (1) 10点 他 各5点×2
 計100点



※この解答用紙は108%に拡大していただくと、実物大になります。

一	六	若者言葉は	(一)	(二)	(三)	(四)	(五)	段落	
			A	C	D	①	③		④

70

二	四	五	a	b	c		
						d	e
							(二)
							(三)

三	(一)
	(二)
	(三)
	(四)

○推奨配点○ 一 (一)・(二)・(三)・(四)・(五) 各5点×4 (六) 10点 他 各4点×4
 二 (一)・(二) 各5点×2 他 各4点×7
 三 各4点×4
 計 100点

100