

◇適性検査Ⅰ◇

都立小石川中等教育学校 平成30年度

※この解答用紙は189%に拡大していただくと、実物大になります。

1

(問題1)

(1)

(2)

(問題2)

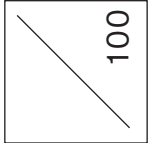
長さ3cm

長さ

112cmがけているから。

(問題3)

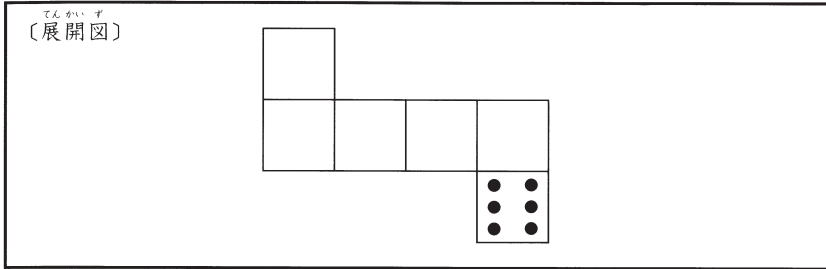
																				20	
																					100
																					200
																					300
																					400
																					440



※この解答用紙は135%に拡大していただくと、実物大になります。

1

〔問題1〕



〔問題2〕

〔式〕

$$\square \circ \square \oplus \square \circ \square = 7$$

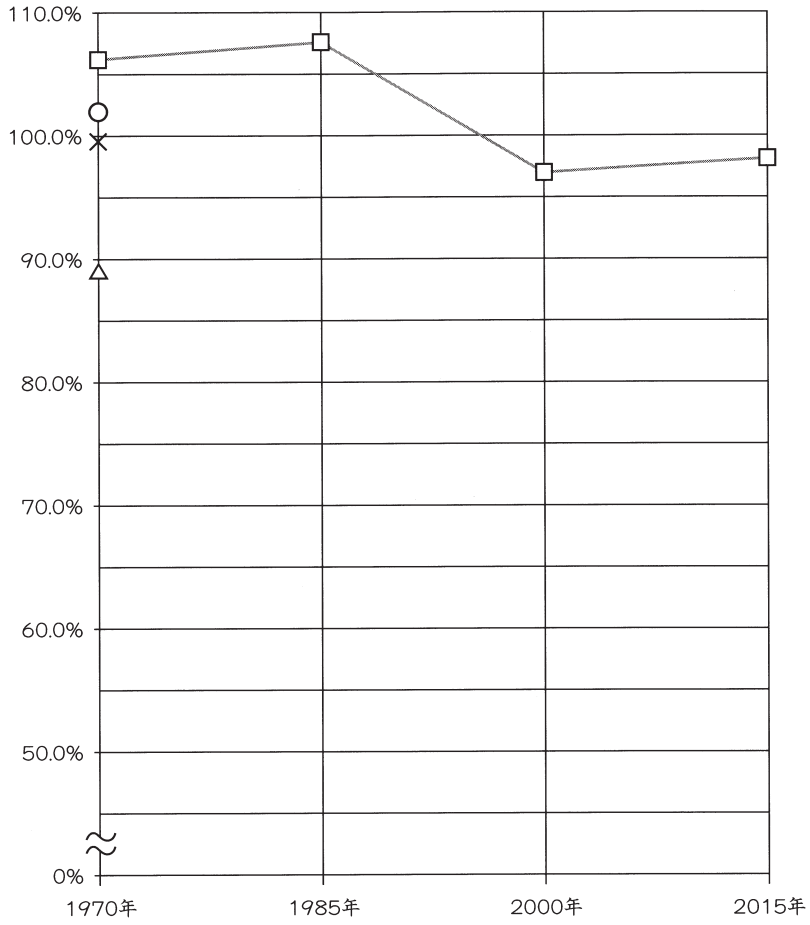
〔説明〕

〔問題3〕

〔手前に見える二つの面の目の数の組み合わせ〕  と	〔合計〕
〔太郎さんが気づいたおもしろいこと〕	

2

(問題1)  
(1)



(2)

選んだ食料	
-----	
-----	

〔問題 2〕

(1)


(2)


〔問題 3〕


〔問題 4〕 (横書きで書きなさい)

あさこさん ・ けんじさん										どちらかに○を付けなさい									

120

150

3

〔問題 1〕

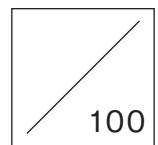
〔選んだ観察〕	さんの観察
〔選んだ花粉〕	の花粉
〔1 cm <sup>2</sup> あたりの花粉の数〕	個
〔説明〕	

〔問題 2〕

(1) (あ)	
(い)	
(2) 〔選んだ図の番号〕	〔グラフの記号〕

〔問題 3〕


〔選んだ図〕
〔説明〕
〔選んだ図〕
〔説明〕




※この解答用紙は135%に拡大していただくと、実物大になります。

1

〔問題1〕



〔問題2〕



〔問題3〕

(1)	
(2)	
(3)	

〔問題4〕

(1)	
(2)	
(3)	

2

〔問題 1〕

(1)	折り目の並び方
(2)	折り目の並び方
	理由

〔問題 2〕

折り方の順番	→	→
折り目の並び方		

〔問題 3〕

(1)	折り方	山折り線の数	谷折り線の数
(2)			

